

03 ශ්‍රේණිය - පිළිතුරු පත්‍රය

01. I. II II. I III. III IV. II  
 V. III VI. I VII. II VIII. III  
 IX. IV X. I

02. I. 987 II. 893 III. 72 IV. 30  
 V. 34 VI. 4 ඉ I VII. 48 VIII. 250

03. I. 34 II. 60 III. 390 IV. 22

04. පාලමක දිග  $\rightarrow 5kg$   
 කළයක චතුර  $\rightarrow 5m$   
 පරිප්පු පාර්සලක බර  $\rightarrow 5l$

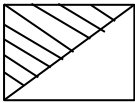
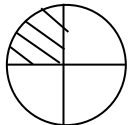

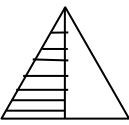
05.

රූපය	ඝන වස්තුවේ නම	හැඩතලයේ නම
01 රූපය	ඝනකය	සමචතුරස්‍රය
02 රූපය	ඝනකාභය	සෘජුකෝණාස්‍රය
03 රූපය	චතුස්තලය	ත්‍රිකෝණය
04 රූපය	සිලින්ඩරය	චාත්තය

06.

හැඩය	හැඩ ගණන
චාත්තය	3
ත්‍රිකෝණය	7
සමචතුරස්‍රය	4
සෘජුකෝණාස්‍රය	4

07. I. 28 II. 64 III. D IV. 8

08.    

09. I. රුපියල් 37 II. රුපියල් 52 III. රුපියල් 65

10. I. II. නිල් පාට මල් III. කහ සහ දම්  
IV. 7 V. 28

11. I. වේලාව 01යි II. වේලාව 09යි

12. උතුරු, නැගෙනහිර, දකුණ, බටහිර, ( පිළිවෙලක් නැතත් ලකුණු ලබා දෙන්න )